



PDF Compressor Free Version



آدینه‌ی ۳



آدینه ۳ فارسی






۱ دلبندم تمیز و با دقت ادامه بده.



۲ به تعداد بخش‌های هر شکل گردی بکش.

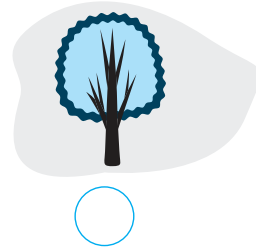
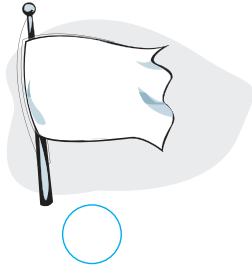
۳ شکل‌هایی را که اول آن‌ها مثل هم است، علامت ✓ بزن.





شکل‌هایی را که آخر آن‌ها مثل هم است، علامت ✓ بزن.

۴





PDF Compressor Free Version



آدینه‌ی ۳



ریاضی

۳


آدینه



۱ الگوها را ادامه بده.


1 الگوها را ادامه بده.

۲ با توجه به تعداد شکل‌ها در جدول، خانه‌ها را رنگ بزن.



۳ اگر به شکل‌های سمت چپ ۲ تا اضافه کنیم، در هر ردیف چند تا می‌شود؟ شکل بکش.

3 اگر به شکل‌های سمت چپ ۲ تا اضافه کنیم، در هر ردیف چند تا می‌شود؟ شکل بکش.





PDF Compressor Free Version

سال اوّل

آدینه

جدول شگفت‌انگیز را کامل کن.

۴

○	○○	○○○	○○○○
○○○		○○	
○○	○	○○○○	
	○○○		○○





PDF Compressor Free Version



آدینه‌ی ۳




علوم


۳

آدینه

۱ برای دیدن و شنیدن از چه عضوهایی استفاده می‌شود؟ شکل بکش.



شنیدن





دیدن

۲ کدام گرم است؟ علامت ✓ بزن.

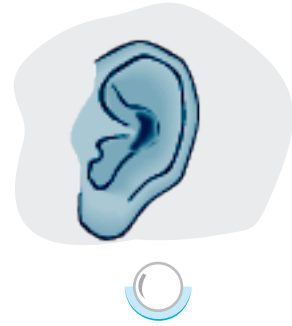


۳ بوی کدامیک ما را ناراحت می‌کند؟





۴ گرمی و سردی اجسام را با چه عضوی از بدن خود تشخیص می‌دهیم؟



۵ بدن کدام یک از حیوانات زیر زبر است؟



خیلی خوب




خوب



قابل قبول



نیازمند تلاش بیشتر





PDF Compressor Free Version



آدینه‌ی ۴





فارسی

آدینه ۴




۱ عزیزم زیبا بنویس.



۲ به تعداد بخش‌های هر شکل، از گردی‌ها رنگ بزن.



۳ گردی شکل‌هایی را که صدای آخر آن‌ها مثل هم است، رنگ کن.





PDF Compressor Free Version



سال اوّل

آدینه

۴ عزیزم در جای خالی تصویر مناسب بکش.

است.

مانند صدای اوّل



صدای اوّل





PDF Compressor Free Version



آدینه ی ۴



ریاضی



۴

آدینه



شکل های دو دسته روی هم چندتا هستند؟ با چوب خط نشان بده.

۱



با توجه به چوب خط، در جای خالی شکل بکش.

۲



در جدول پایین به دلخواه الگو بساز و ادامه بده.

۳






۴ به تعداد شکل‌ها چوب خط بکش.



۵ به تعداد شکل‌های سمت چپ، در سمت راست شکل بکش و رنگ کن.




۶



۶



۶





PDF Compressor Free Version

پویس



آدینه ی ۴





علوم

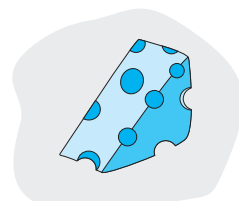
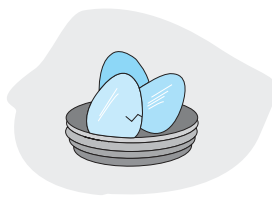
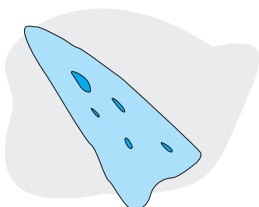
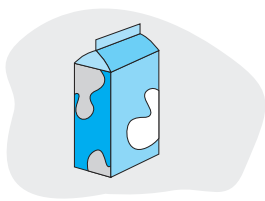
۴

آدینه




۱ کدام شکل‌ها، به زیر آب فرو نمی‌روند؟



۲ خوراکی‌هایی را که از جانوران به دست آمده است علامت ✓ بزن.

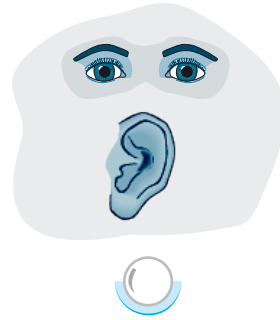



۳ از شکل‌های زیر، آن را که بی‌مزه است، مشخص کن.






۴ در هنگام دیدن تلویزیون از کدام اندام‌های خود استفاده می‌کنیم؟



۵ کدام یک از جانوران زیر حسّ بویایی قوی‌تر دارد؟



— عزیزم، یک نقاشی به دلخواه خودت بکش. 

خیلی خوب



خوب



قابل قبول



نیازمند تلاش بیشتر

